

Le cadre *administratif*



C 18

SAINTE MARINE

SANT-VORAN



Au cours de l'histoire, la France a été occupée par des peuples multiples venus de pays différents : elle a donc une grande variété de langues, de traditions culturelles, de comportements et de religions.

Aujourd'hui, les diverses composantes de la population française revendiquent la reconnaissance de ces différences, encore bien vivantes, d'abord à travers la langue : en

effet, les panneaux routiers sont souvent bilingues et apparaît l'enseignement bilingue.

Du point de vue **administratif**, la France est divisée en :

- **régions**, 22 en métropole et 4 outre-mer (Martinique, Guadeloupe, Réunion et Guyane)
- **départements**, 96 en métropole et 4 outre-mer (les DOM-TOM : Martinique, Guadeloupe, Réunion et Guyane)
- **communes**, près de 37 000.


Les départements sont numérotés par ordre alphabétique : ces chiffres se retrouvent sur les plaques d'immatriculation des voitures et dans le code postal.

À partir des années 80 l'État a entrepris une politique de décentralisation, qui consiste à donner plus de responsabilités aux départements et aux régions.



PETIT LEXIQUE

<i>décentralisation</i>	decentramento (trasferimento di alcuni poteri dallo Stato alle regioni, ai dipartimenti e ai comuni)
<i>un panneau routier</i>	un cartello stradale
<i>une plaque d'immatriculation</i>	una targa automobilistica
<i>le code postal</i>	il codice postale



QUELQUES DONNÉES

Population

France métropolitaine 58 027 308 habitants
(4^{ème} rang en Europe, 20^{ème} rang dans le monde)

France métropolitaine + DOM-TOM 60 millions d'habitants environ

Régions à haute densité de population Île de France, Nord-Pas de Calais, Rhône-Alpes
à très faible densité Massif Central, Pyrénées, Ardennes, Alpes du Sud

Dans le texte

1. Lis les informations et réponds aux questions suivantes.
 1. Comment s'expliquent les diversités régionales de la France ?
 2. Comment est organisée la France du point de vue administratif ?
 3. Combien de régions y a-t-il en France ?
 4. Est-ce qu'elles sont toutes situées en métropole ?
 5. Combien de départements y a-t-il ?
 6. Quelle est la zone du pays la plus peuplée ?




Toulouse




Marseille



Lille



Strasbourg



Lyon

Travaillons avec les images

2. Regarde la carte à la page ci-contre et dis dans quelles régions se trouvent :

- Paris
- Marseille
- Bordeaux
- Tours
- Strasbourg
- Nantes
- Ajaccio
- Reims

- 3a. Regarde les photos et indique le nom :

- d'un port situé sur la côte méditerranéenne
- d'une ville traversée par le Rhône
- de la ville située le plus au Nord
- d'une ville près des Pyrénées
- de la ville située à la frontière avec l'Allemagne

- 3b. Situe ces villes sur la carte de France.